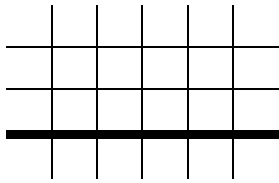


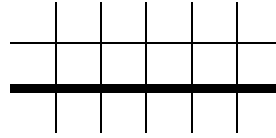
דף עבודה בחשבון (חלק 1)

1. כתוב את תרגילים הבאים במאונך ופתור:

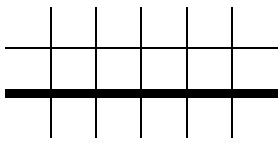
$$97 + 205 + 7,583 =$$



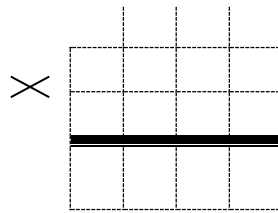
$$12,036 - 9,857 =$$



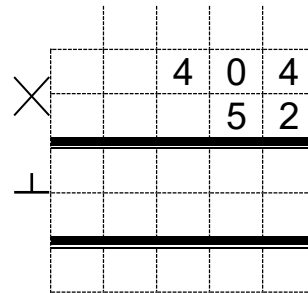
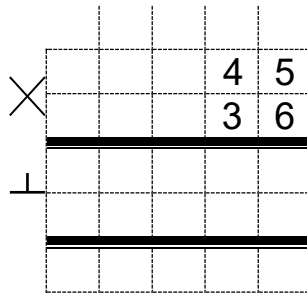
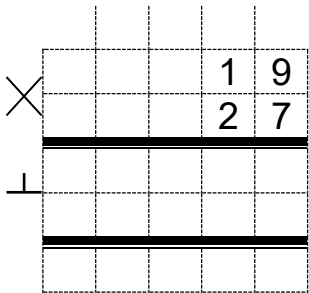
$$7,000 - 2,356 =$$



$$345 \times 6 =$$



2. פתור את התרגילים הבאים:



3. פתור את התרגילים הבאים (לפי סדר פעולות חשבון):

$$4 \times 10 + 3 \times 5 = \underline{\hspace{2cm}} \quad 20 : 4 \times 3 = \underline{\hspace{2cm}}$$

$$3 \times (15 - 7 \times 2) = \underline{\hspace{2cm}} \quad 20 : (2 + 3 \times 6) = \underline{\hspace{2cm}}$$

4. אמא קנתה 25 זרי פרחים אדומים ובכל זר היו 17 פרחים ו- 15 זרי פרחים לבנים, בכל זר 12 פרחים. כמה פרחים בשני צבעים בסך הכל קנתה אמא?

פתרון: